

# Thema 4/ blok 3 pakket 1

## Lezen:

Spelbord 1: woorden lezen met -ts -st en me, te, we \*\*

Spelborden bij level-up lezen (zie pakket 2) \*\* en \*\*\*

## Rekenen:

Spelbord 1: sommen tot en met 5 oefenen en getallen oplezen.

Spelbord 2: splitsen van 1,2,3,4,5,6,7,8 en 9 en getallen oplezen.

Spelbord 3: klokkijken, lees en teken de tijd in de klok.



start

meest

past

komst

we

proest

wast

kaats

leest

wist

reist

gast

muts

kiest

feest

hoest

me

mist

me

west

ze

niest

raast

kust

haast

rats

tost

kist

lust

te

naast

sist

mast

kluts

rust

je

pruts

mest

kast

list

last


roest

de

einde



Schrijf de woorden van het spelbord in het juiste vakje onder het verkeersbord!





Empty rectangular box for writing words.

Empty rectangular box for writing words.

Empty rectangular box for writing words.

Kleur de woorden uit het spel in de juiste kleur op het spelbord!



Zijn er woorden die je nog lastig vindt om te lezen? Schrijf ze hieronder op!

start

level 1

level 2

level 3

level 4

level 5



level 1

level 2



level 3

level 2

level 1

level 5



level 4

level 3



level 4



level 5

level 1

level 2

level 3



level 4

level 5

level 1



level 4

level 3



level 2

level 1



level 2



level 3

level 4

level 5



level 1



finish

# Spelbord bij level-up lezen

## Wat heb je nodig?

- Level-up lezen leesblad thema 4.
- Pionnen.
- Dobbelsteen.
- Scoreblad.
- Potlood.

## Spelverloop:

Gooi met de dobbelsteen. Kom je op een level? Dan lees je van dit level alle rijtjes op je leesblad. Kom je op een van de onderstaande pictogrammen, lees dan wat je verdient! Bekijk bij de finish hoeveel punten je verdiend hebt! (sprongen van 10)



10 punten: schrijf de punten op een blaadje. Je hebt in ieder geval 10 punten nodig om bij de finish te komen, anders kun je niet eindigen.



10 punten: schrijf de punten op een blaadje. Je hebt in ieder geval 10 punten nodig om bij de finish te komen, anders kun je niet eindigen.



Je bent een held geworden en komt in een draaikolk terecht. Je mag hiermee 2 vakjes vooruit!



De draak spuwt zijn vuur! Je mag niet langs hem heen, je moet met hem in gevecht. Lees van elk level een rijtje, dan mag je weer door!

start

level 1

level 1



level 1

level 1



level 1

level 2



level 3

level 2

level 2

level 2



level 2



level 3



level 3

level 3

level 3



level 3

level 4

level 4



level 4

level 4



level 4



level 5



level 5

level 5

level 5



level 5



finish

# Spelbord bij level-up lezen

## Wat heb je nodig?

- Level-up lezen leesblad thema 4.
- Pionnen.
- Dobbelsteen.
- Scoreblad.
- Potlood.

## Spelverloop:

Gooi met de dobbelsteen. Kom je op een level? Dan lees je van dit level alle rijtjes op je leesblad. Kom je op een van de onderstaande pictogrammen, lees dan wat je verdient! Bekijk bij de finish hoeveel punten je verdiend hebt! (sprongen van 10)



10 punten: schrijf de punten op een blaadje. Je hebt in ieder geval 10 punten nodig om bij de finish te komen, anders kun je niet eindigen.



10 punten: schrijf de punten op een blaadje. Je hebt in ieder geval 10 punten nodig om bij de finish te komen, anders kun je niet eindigen.



Je bent zelf Mario geworden en kan ineens heel snel rennen. Je mag hiermee 2 vakjes vooruit!



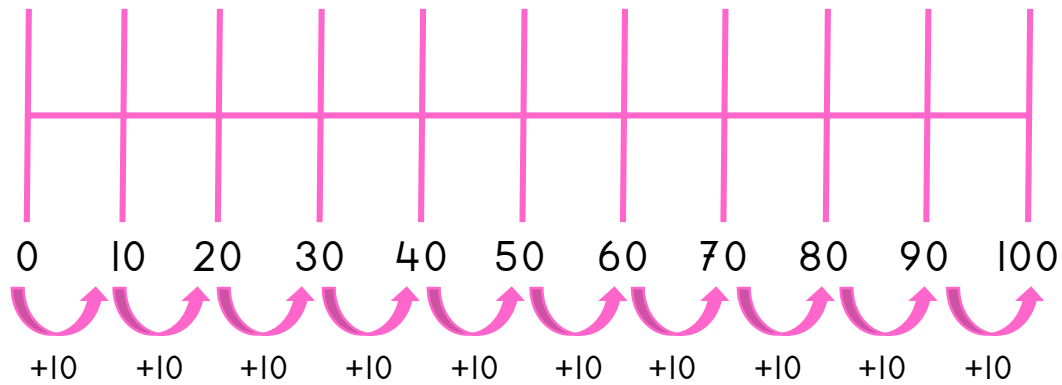
De draak spuwt zijn vuur! Je mag niet langs hem heen, je moet met hem in gevecht. Lees van elk level een rijtje, dan mag je weer door!



Je mag alvast een level omhoog!








# Scoreblad bij level-up lezen



# Scoreblad bij level-up lezen

Heb jij aan het eind van de week alle levels 10 keer gelezen?  
Je begint bij level 1. Heb je deze 10 keer gelezen, dan ga je door  
naar level 2. Uiteindelijk heb je 50 keer gelezen! Kanjer!

	level 1	1	2	3	4	5	6	7	8	9	10
	level 2	11	12	13	14	15	16	17	18	19	20
	level 3	21	22	23	24	25	26	27	28	29	30
	level 4	31	32	33	34	35	36	37	38	39	40
	level 5	41	42	43	44	45	46	47	48	49	50



Is het gelukt?  
Dan verdien je bij level 5 een beloning!  
Haal een mooie sticker op bij de juf of meester 😊



start

$1+1=$



$1+2=$

$1+3=$

$1+4=$

$1+3=$

$2+1=$

$2+2=$

$2+3=$



$3+1=$

Oefen de sommen tot en met 5. Kom je op een vakje met een plaatje?  
Kijk dan op het andere blad en lees het rijtje met getallen hardop!

$4+1=$

$2+3=$

$2+2=$

$2+1=$



$2+0=$

$1+2=$

$1+4=$

$1+3=$

$1+2=$

$1+1=$



$5+0=$

$3+1=$



$3+2=$

$4+0=$

$4+1=$

$5+0=$

$0+5=$

$0+1=$

$0+2=$

$0+3=$

$0+4=$

$1+1=$

$1+2=$

einde

$3+2=$

$5+0=$

$3+1=$



$2+2=$


$4+1=$

$2+3=$

$2+1=$

$1+1=$

$1+4=$





12  
15  
18  
20  
23  
26  
30  
21  
18  
29  
9  
3  
17  
22  
1  
19

22  
30  
10  
3  
8  
12  
19  
14  
29  
13  
18  
5  
19  
20  
23  
27

6  
26  
18  
30  
12  
21  
14  
18  
28  
2  
9  
11  
15  
19  
23  
27



13  
28  
19  
30  
22  
27  
17  
14  
6  
9  
15  
18  
24  
22  
29  
19

23  
29  
12  
21  
22  
27  
20  
30  
16  
18  
13  
17  
3  
19  
29  
18


11  
18  
29  
14  
16  
2  
19  
30  
9  
15  
25  
27  
12  
22  
10  
17



Schrijf het antwoord van de sommen in de vakjes!


start





$\begin{array}{c} 1 \\ / \quad \backslash \\ 1 \quad \square \end{array}$	$\begin{array}{c} 2 \\ / \quad \backslash \\ 1 \quad \square \end{array}$ 	$\begin{array}{c} 3 \\ / \quad \backslash \\ 2 \quad \square \end{array}$	$\begin{array}{c} 4 \\ / \quad \backslash \\ 2 \quad \square \end{array}$	$\begin{array}{c} 5 \\ / \quad \backslash \\ 3 \quad \square \end{array}$	$\begin{array}{c} 6 \\ / \quad \backslash \\ 3 \quad \square \end{array}$ 	$\begin{array}{c} 7 \\ / \quad \backslash \\ 4 \quad \square \end{array}$	$\begin{array}{c} 8 \\ / \quad \backslash \\ 5 \quad \square \end{array}$	$\begin{array}{c} 9 \\ / \quad \backslash \\ 1 \quad \square \end{array}$
---	---	---	---	---	---	---	---	---

Oefen de splitsingen tot en met 9. Kom je op een vakje met een plaatje?  
Kijk dan op het andere blad en lees het rijtje met getallen hardop!




$\begin{array}{c} 2 \\ / \quad \backslash \\ 0 \quad \square \end{array}$  

$\begin{array}{c} 4 \\ / \quad \backslash \\ 1 \quad \square \end{array}$	$\begin{array}{c} 3 \\ / \quad \backslash \\ 3 \quad \square \end{array}$ 	$\begin{array}{c} 2 \\ / \quad \backslash \\ 2 \quad \square \end{array}$	$\begin{array}{c} 1 \\ / \quad \backslash \\ 1 \quad \square \end{array}$	$\begin{array}{c} 9 \\ / \quad \backslash \\ 7 \quad \square \end{array}$	$\begin{array}{c} 8 \\ / \quad \backslash \\ 4 \quad \square \end{array}$	$\begin{array}{c} 7 \\ / \quad \backslash \\ 5 \quad \square \end{array}$ 	$\begin{array}{c} 6 \\ / \quad \backslash \\ 2 \quad \square \end{array}$	$\begin{array}{c} 5 \\ / \quad \backslash \\ 1 \quad \square \end{array}$	$\begin{array}{c} 4 \\ / \quad \backslash \\ 3 \quad \square \end{array}$
---	---	---	---	---	---	---	---	---	---

$\begin{array}{c} 5 \\ / \quad \backslash \\ 4 \quad \square \end{array}$		
---	---	---

$\begin{array}{c} 6 \\ / \quad \backslash \\ 4 \quad \square \end{array}$ 	$\begin{array}{c} 7 \\ / \quad \backslash \\ 1 \quad \square \end{array}$	$\begin{array}{c} 8 \\ / \quad \backslash \\ 2 \quad \square \end{array}$	$\begin{array}{c} 9 \\ / \quad \backslash \\ 8 \quad \square \end{array}$ 	$\begin{array}{c} 1 \\ / \quad \backslash \\ 0 \quad \square \end{array}$	$\begin{array}{c} 2 \\ / \quad \backslash \\ 0 \quad \square \end{array}$ 	$\begin{array}{c} 3 \\ / \quad \backslash \\ 0 \quad \square \end{array}$	$\begin{array}{c} 4 \\ / \quad \backslash \\ 4 \quad \square \end{array}$ 	$\begin{array}{c} 5 \\ / \quad \backslash \\ 0 \quad \square \end{array}$	$\begin{array}{c} 6 \\ / \quad \backslash \\ 6 \quad \square \end{array}$
---	---	---	---	---	---	---	---	---	---

$\begin{array}{c} 8 \\ / \quad \backslash \\ 3 \quad \square \end{array}$

einde	$\begin{array}{c} 9 \\ / \quad \backslash \\ 5 \quad \square \end{array}$ 	$\begin{array}{c} 8 \\ / \quad \backslash \\ 0 \quad \square \end{array}$	$\begin{array}{c} 7 \\ / \quad \backslash \\ 2 \quad \square \end{array}$	$\begin{array}{c} 6 \\ / \quad \backslash \\ 1 \quad \square \end{array}$ 	$\begin{array}{c} 8 \\ / \quad \backslash \\ 7 \quad \square \end{array}$	$\begin{array}{c} 7 \\ / \quad \backslash \\ 6 \quad \square \end{array}$	$\begin{array}{c} 6 \\ / \quad \backslash \\ 5 \quad \square \end{array}$	$\begin{array}{c} 5 \\ / \quad \backslash \\ 5 \quad \square \end{array}$ 	$\begin{array}{c} 4 \\ / \quad \backslash \\ 0 \quad \square \end{array}$
-------	---	---	---	--	---	---	---	---	---





12  
15  
18  
20  
23  
26  
30  
21  
18  
29  
9  
3  
17  
22  
1  
19



22  
30  
10  
3  
8  
12  
19  
14  
29  
13  
18  
5  
19  
20  
23  
27



6  
26  
18  
30  
12  
21  
14  
18  
28  
2  
9  
11  
15  
19  
23  
27



13  
28  
19  
30  
22  
27  
17  
14  
6  
9  
15  
18  
24  
22  
29  
19




23  
29  
12  
21  
22  
27  
20  
30  
16  
18  
13  
17  
3  
19  
29  
18



11  
18  
29  
14  
16  
2  
19  
30  
9  
15  
25  
27  
12  
22  
10  
17

Schrijf het antwoord van de splitsingen in de vakjes!





























Lees hoe laat het is en teken de juiste tijd in de klok!

Kom je op een poppetje? Een beurt wachten!

start	11 uur	half 6		12 uur	7 uur	half 1		6 uur	half 3
	9 uur	half 2	12 uur	9 uur	5 uur	2 uur	half 4		half 7
5 uur	4 uur		1 uur	half 8	11 uur		8 uur	3 uur	half 6
9 uur	10 uur	7 uur		3 uur	4 uur	half 12	half 9	11 uur	half 12
half 1		8 uur	5 uur	12 uur	half 5	9 uur		half 11	einde

Teken in de klok hoe laat het is!



Teken in de klok hoe laat het is!

