

Lego pakket 2

Lezen:

Spelbord 1: woorden lezen **


Spelbord 2: woordrijtjes lezen **

Rekenen:

Spelbord 1: sommen tot en met 5 oefenen en getallen oplezen.

Spelbord 2: splitsen van 1,2,3,4,5,6,7,8 en 9 en getallen oplezen.

Spelbord 3: klokkijken, lees en teken de tijd in de klok.



Spelbord I: lego woorden lezen.

Benodigheden:

- Twee lego poppetjes.
- Een dobbelsteen.

Gooi met de dobbelsteen. Zet het aantal ogen vooruit op het spelbord.

Lees het woord.

Kom je op een lego hoofd? Dan mag je via het weggetje naar beneden bij de volgende beurt!

Wie is er als eerste aan het einde?



start

kus

kan



bus

meel

leen



hier

haak

poes

boek

boer

baalt

teil

kop

kruk

loert



moes

bom

sist

leest

pest

stop


hoek

diep



hap

reik



pier

rukt

lak



pakt

kust

kant

mei

reikt

raak

leent

einde

koel

beek

paal

meen

roer

raakt

haas

hupt

lust

baal

Spelbord 2: lego woordrijtjes lezen.

Benodigdheden:

- Twee lego poppetjes.
- Een dobbelsteen.

Gooi met de dobbelsteen. Zet het aantal ogen vooruit op het spelbord.
Lees de woorden.

Kom je op een lego hoofd? Dan mag je een bepaald aantal lego stenen pakken. Stapel de stenen op elkaar.


Wie heeft uiteindelijk de hoogste toren?



start

kus
bus


kan
dan



bus
mus

meel
deel

leen
been



hier
dier

haak
hak

poes
soes

pak 2
legostenen!

pak 3
legostenen!

baalt
aal

teil
tel

kop
pop

kruk
druk

loert
boert



moes
poes

bom
dom

sist
list

leest
mees

pest
lest


stop
dop

pak 5
legostenen!

hoek
boek

hap
sap

reik
eik



pier
nier

rukt
lukt

lak
dak



pakt
lakt

kust
mus

kant
kan

mei
ei

pak 2
legostenen!

pak 4
legostenen!

leent
meent

einde

koel
boel

beek
leek

paal
aal

meen
been

roer
boer

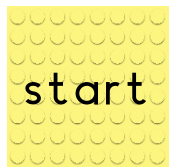
raakt
maakt

haas
raas

hupt
hup

lust
rust

baal
maal



$1+1=$

$1+2=$

$1+3=$

$1+4=$

$1+3=$

$2+1=$

$2+2=$

$2+3=$

$3+1=$

$3+2=$

Oefen de sommen tot en met 5. Kom je op een vakje met een lego hoofd?
Kijk dan op het andere blad en lees het rijtje met getallen hardop!

$4+1=$

$2+3=$

$2+2=$

$2+1=$

$2+0=$

$1+2=$

$1+4=$

$1+3=$

$1+2=$

$1+1=$

$1+0=$

$5+0=$

$3+1=$

$3+2=$

$4+0=$

$4+1=$

$5+0=$

$0+5=$

$0+1=$

$0+2=$

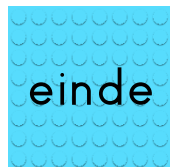
$0+3=$

$0+4=$

$0+5=$

$1+1=$

$1+2=$



$3+2=$

$5+0=$

$3+1=$

$2+2=$

$4+1=$

$2+3=$

$2+1=$

$1+1=$

$1+4=$

$1+3=$



12
15
18
20
23
26
30
21
18
29
9
3
17
22
1
19



22
30
10
3
8
12
19
14
29
13
18
5
19
20
23
27



6
26
18
30
12
21
14
18
28
2
9
11
15
19
23
27



13
28
19
30
22
27
17
14
6
9
15
18
24
22
29
19



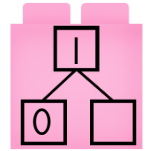
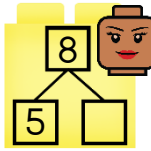
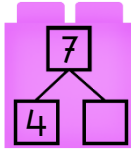
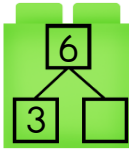
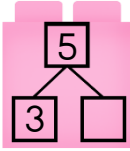
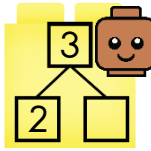
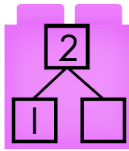
23
29
12
21
22
27
20
30
16
18
13
17
3
19
29
18



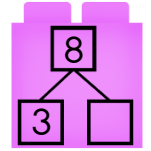
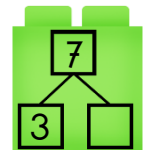
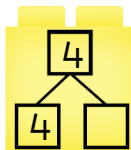
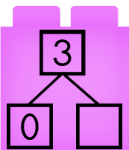
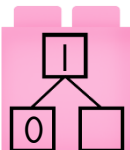
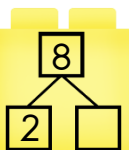
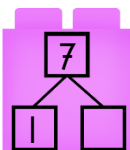
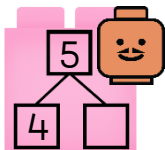
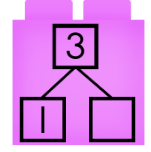
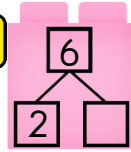
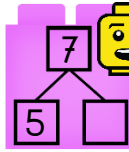
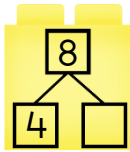
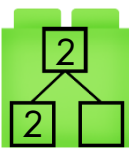
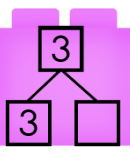
11
18
29
14
16
2
19
30
9
15
25
27
12
22
10
17

Schrijf het antwoord van de sommen in de vakjes!

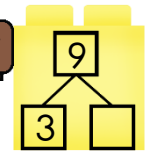
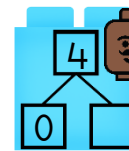
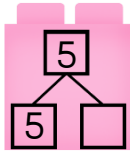
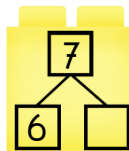
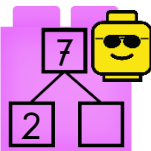
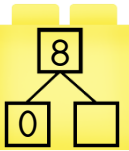
start



Oefen de splitsingen tot en met 9. Kom je op een vakje met een lego hoofd?
Kijk dan op het andere blad en lees het rijtje met getallen hardop!



einde





12
15
18
20
23
26
30
21
18
29
9
3
17
22
1
19



22
30
10
3
8
12
19
14
29
13
18
5
19
20
23
27



6
26
18
30
12
21
14
18
28
2
9
11
15
19
23
27



13
28
19
30
22
27
17
14
6
9
15
18
24
22
29
19



23
29
12
21
22
27
20
30
16
18
13
17
3
19
29
18













11
18
29
14
16
2
19
30
9
15
25
27
12
22
10
17


Schrijf het antwoord van de splitsingen in de vakjes!

Lees hoe laat het is en teken de juiste tijd in de klok!

Kom je op een lego poppetje? Een beurt wachten!

start	11 uur	half 6		12 uur	7 uur	half 1		6 uur	half 3
	9 uur	half 2		9 uur	5 uur	2 uur	half 4		half 7
5 uur	4 uur		1 uur	half 8	11 uur		8 uur	3 uur	half 6
9 uur	10 uur	7 uur		3 uur	4 uur	half 12	half 9	11 uur	half 12
half 1		8 uur	5 uur	12 uur	half 5	9 uur		half 11	einde

Teken in de klok hoe laat het is!



Teken in de klok hoe laat het is!

