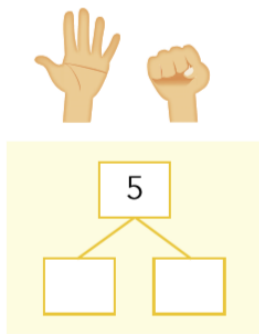
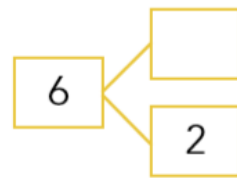


Aan het eind van blok 2:

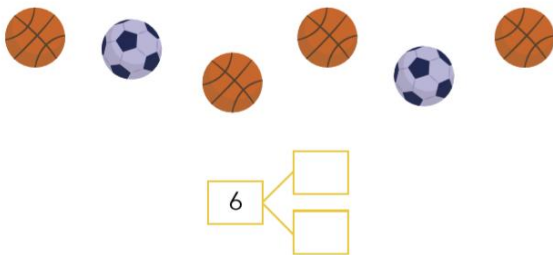
kan ik een splitsschema invullen



kan ik de splitsingen van 4, 5 en 6 toepassen



kan ik een verhaal en tekening bedenken bij de splitsing van 6 en 7



kan ik alle blokken in een blokkenbouwsel tellen

